

# Sri Swami Vivekananda Talent Test - 2015





Mandal Level ( Level -2) Classes 8<sup>th</sup> , 9<sup>th</sup> and 10<sup>th</sup> (EM/TM)

Conducted by : T.S.O. ( Talent Search Organisation – P.Dornala)

Date: 05-01-2015

Venue: Govt. High School - P.Dornala

## ENGLISH GRAMMAR

1. Which is correct?  
A) The cat sit on the mat  
B) The cat is sit on the mat  
C) The cat is on the mat  
D) The cat over the mat
2. Select the suitable question tag for the following statement.  
"Lalitha went to Market."  
A) doesn't she?      B) don't she?  
C) didn't she?      D) won't she?
3. A Cobbler needs .....
- A)  B) 
- C)  D) 
4. Honesty is the best policy.  
Which part of speech is "honesty" ?  
A) verb      B) noun  
C) preposition      D) adjective
5. I am going ..... Shopping.  
A) for      B) to  
C) at      D) in
6. If you ....., I will give you.  
A) can come      B) could come  
C) will come      D) come
7. Some one ... playing in the ground.  
A) are      B) were  
C) have      D) is



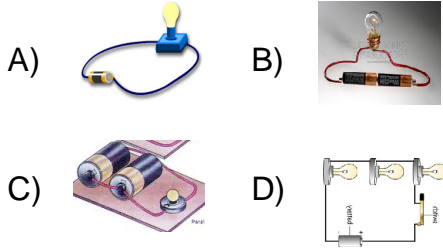
8. I am ..... LIC agent.  
A) a      B) an  
C) the      D) None
9. Please distribute these chocolates to ..... student.  
A) all      B) some  
C) every      D) each
10. He dances .....  
A) superb      B) excellent  
C) well      D) good

## GENERAL SCIENCE

11. This is not a burning gas.  
This is not helps in burning.  
ఇది మండదు మరియు  
మండడానికి తోడ్పడదు.  
A) Hydrogen      హైడ్రోజన్  
B) Nitrogen      నైట్రోజన్  
C) Oxygen      ఆక్సిజన్  
D) Carbon di oxide      కార్బన్ డై ఆక్సైడ్
12. Semi metal / Metalloid  
క్రింది వానిలో అర్ధ లోహము  
A) Germanium      జెర్మేనియం  
B) Gallium      గాలియం  
C) Bismuth      బిస్మత్  
D) Aluminium      అల్యూమినియం
13. Vaccine used to prevent TB  
క్షయ నివారణకు ఉపయోగించే వ్యాక్సిన్  
A) MMR      B) BCG  
C) DPT      D) Elovac-B

14. In which condition, the bulb glows with high intensity?

క్రింది వానిలో ఏ సందర్భంలో బల్బు అధిక తీవ్రతతో వెలుగును



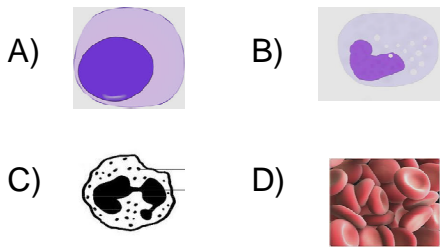
15. Acid is not present in .....  
ఆమ్లము ఇందులో ఉండదు.

- A) Rin soap water రిన్ సబ్బు నీరు  
B) Apple యాపిల్  
C) Tomato juice టామాటో రసము  
D) Sweet curd తీపి పెరుగు

16. We stand while National Anthem is going on. This is .....?  
జాతీయ గీతం వినబడగానే లేచి నిలబడతాము.  
ఇది ఒక ..... చర్య

- A) conditional నిబంధన సహిత  
B) unconditional నిబంధన రహిత  
C) Trial and error యత్న దోష  
D) natural సహజ

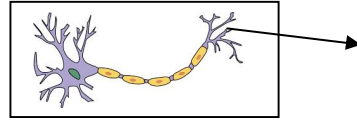
17. Lymphosites క్రింది వానిలో లింఫోసైట్స్



18. Marsupial మార్సుపియల్

- A) Squirrel ఉడుత  
B) Bat గబ్బిలము  
C) Sea tortoise సముద్ర తాబేలు  
D) Kangaroo కంగారు

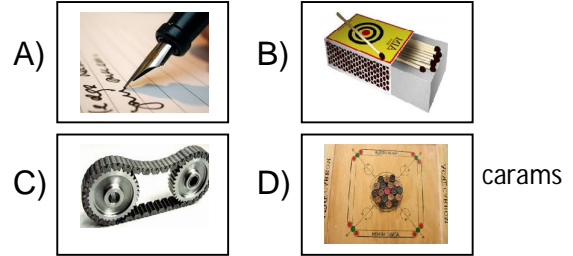
19. Identify the part in the given figure  
ఇవ్వబడిన పటంలో గుర్తించబడిన భాగము



- A) Axon ఏక్సాన్  
B) Cyton సైటాన్  
C) Dendryte డెండ్రైట్  
D) Nucleus కేంద్రకము

20. Friction is not useful to which work given below.

దిగువ తెలిపిన ఏ సందర్భాలలో ఘర్షణ ఉపయోగపడదు.



## SOCIAL STUDIES

21. The tree present in RBI logo

ఆర్.బి.ఐ. లోగో నందు ఉన్న చెట్టు ఏమిటి?



- A) Coconut tree కొబ్బరి చెట్టు  
B) Palm tree పామ్ చెట్టు  
C) Olive tree ఆలివ్ చెట్టు  
D) Ashoka tree అశోక చెట్టు

22. Dates(తేదీలు):

- (i) Mar-21 మార్చి -21  
(ii) Sep-23 సెప్టెంబర్ -23  
(iii) Dec-22 డిసెంబర్ -22  
(iv) June-21 జూన్ -21

Equinoxes: విషువత్తులు

- A) (i) & (ii) B) (i) & (iii)  
C) (i) & (iv) D) (ii) & (iv)





23. The lines joining the places having same height are .....  
ఒకే ఎత్తు కలిగిన ప్రదేశాలను కలుపుతూ గీచే రేఖలను ..... అంటారు.

- A) Isopleths                      ఐసోప్లేత్స్  
B) Isobars                        ఐసోబార్స్  
C) Isolines                        ఐసోలైన్స్  
D) Isohels                        ఐసోహెల్స్

24. International women's day  
అంతర్జాతీయ మహిళా దినోత్సవము

- A) October-11                    అక్టోబర్-11  
B) June-6                        జూన్-6  
C) September-16                సెప్టెంబర్-16  
D) March-8                      మార్చి-8

25. Adolf Hitler అడాల్ఫ్ హిట్లర్

- A)                       B)   
C)                       D) 

26. Puri is in Odisha. Sambar is in .....  
పూరి ఒడిషాలో ఉంది. సాంబార్ .... లో ఉంది.

- A) Andhra Pradesh                ఆంధ్రప్రదేశ్  
B) Tamil Nadu                    తమిళనాడు  
C) Punjab                        పంజాబ్  
D) Rajasthan                      రాజస్థాన్

27. This country has the same time zone to that of India.  
భారతదేశ కాలమానంతో సమానమైన

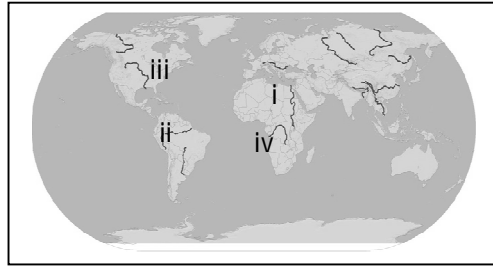
- కాలమానాన్ని కలిగిన దేశము  
A) Pakistan                      పాకిస్థాన్  
B) Nepal                        నేపాల్  
C) Bangladesh                బంగ్లాదేశ్  
D) Srilanka                      శ్రీలంక

28. America dropped atomic bomb on Hiroshima (Japan) during 2<sup>nd</sup> world war on ....  
రెండవ ప్రపంచ యుద్ధ కాలంలో జపాన్ లోని

హిరోషిమా పై అమెరికా అణుబాంబును ప్రయోగించిన రోజు





- A) 06-08-1945                      B) 09-08-1945  
C) 12-01-1945                      D) 05-01-1945

29. Which indicates the longest river in the world.  
ప్రపంచంలో అతి పొడవైన నదిని సూచించేది



- A) (i)                                      B) (ii)  
C) (iv)                                    D) (iii)

30. Out line map of Madhya Pradesh  
మధ్యప్రదేశ్ రాష్ట్రము యొక్క పటము

- A)                       B)   
C)                       D) 

**LIFE HISTORY OF VIVEKANANDA**

31. Beluru Math is in ..... state.  
బేలూరు మఠము ..... రాష్ట్రములో కలదు.

- A) Tamilnadu                      తమిళనాడు  
B) Westbengal                    పశ్చిమ బెంగాల్  
C) AndhraPradesh                ఆంధ్రప్రదేశ్  
D) Uttar Pradesh                ఉత్తర ప్రదేశ్

32. Father of Vivekananda  
వివేకానందుని తండ్రి

- A) Viswas dath                      విశ్వాస్ దత్త  
B) Kasinath dath                కాశీనాథ్ దత్త  
C) Veereswar                      వీరేశ్వర్  
D) Viswanath dath                విశ్వనాథ్ దత్త

33. Life period of Vivekananda is ...

వివేకానందుని జీవిత కాలము

- A) 41 years                      B) 39 years  
C) 38 years                      D) 40 years

34. Who helped Swami Vivekananda to go to America (money)

అమెరికాకు వెళ్ళడానికి స్వామి వివేకానందకు ఆర్థిక సహాయము చేసినది

- A) Ramathirtha swami రామతీర్థ స్వామి  
B) Pavahari baba పవహారి బాబా  
C) Khetri Maharaj ఖేత్రి మహరాజ్  
D) Rama Krishna రామకృష్ణ

35. Rama Krishna Math was established in Beluru on .....

బేలూరు నందు రామకృష్ణ మఠమును స్థాపించిన రోజు

- A) 12-01-1897                      B) 01-05-1897  
C) 02-10-1897                      D) 04-07-1902

36. Who established Rama Krishna Math

రామకృష్ణ మఠమును స్థాపించినది

- A) Vivekananda స్వామి వివేకానంద  
B) Parama Hamsa పరమహంస  
C) Viswanath Dath విశ్వనాథ్ దత్త  
D) Mahatma Gandhi మహాత్మ గాంధీ

37. Not the quote of Vivekananda

వివేకానందుని సూక్తి కానిది.

- A) Strength is life. Weakness is death.

బలమే జీవితం. బలహీనతే మరణం.

- B) Arise, Awake and stop not till the goal is reached

లే, మేలుకో; గమ్యం చేరే వరకు ఆగకు.

- C) Do good. Be good and See good.

మంచి చెయ్యి.మంచిగా ఉండు.మంచి చూడు

- D) Your aim is yours. So don't change it for others.

నీ లక్ష్యం నీదే. మరొకరి కోసం మార్పుకోకు.

38. Pet name of Vivekananda at childhood

చిన్నతనములో వివేకానందుని ముద్దు పేరు

- A) Chinnu చిన్ను  
B) Bile బిలే  
C) Azad ఆజాద్  
D) Veeru వీరు

39. Mother of Vivekananda

వివేకానందుని తల్లి

- A)  B)   
C)  D) 

40. Swami Vivekananda

స్వామి వివేకానంద

- A)  B)   
C)  D) 

### GENERAL INTELLIGENCE

41.  $4 \times 4 + 4 \times 4 + 4 - 4 \times 4 = ?$


- A) 20                                      B) 32  
C) 48                                      D) 40

42. The pledge "Bharatha Desamu naa matrubhoomi .." was written by

'భారతదేశము నా మాతృభూమి...' అనే ప్రతిజ్ఞను రచించినది.

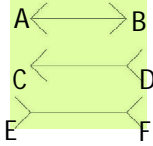
- A)  B)   
C)  D) 

43. How many animals are in this figure  
ఈ చిత్రంలో ఎన్ని జంతువులు ఉన్నాయి?

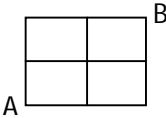


- A) 4 B) 5  
C) 6 D) 8

44. Which line segment is big?  
ఏ రేఖాఖండం పెద్దది?



- A)  $\overline{AB}$  B)  $\overline{CD}$   
C)  $\overline{EF}$  D) None





45. 

In the figure above, a path from point A to point B is determined along grid lines. How many paths can be drawn?

పైన ఇవ్వబడిన పటములో A నుండి B కి గీతల వెంబడి ప్రయాణిస్తూ ఎన్ని దారులు గీయవచ్చు?

- A) 8 B) 12  
C) 4 D) 6

46. Andhra Pradesh state symbol  
ఆంధ్రప్రదేశ్ రాష్ట్ర చిహ్నము

- A)  B)   
C)  D) 

47. Y.S.R.C.P. Expand  
వై.ఎస్.ఆర్.సి.పి. పూర్తి రూపము





- A) Yeduguri Sandinti Rajasekhar Reddy Congress Party  
యెడుగూరి సందింటి రాజశేఖర రెడ్డి కాంగ్రెస్ పార్టీ  
B) Yuvajana Sramika Raitu Satta Congress Party  
యువజన శ్రామిక రైతు సత్తా కాంగ్రెస్ పార్టీ  
C) Youth Society Revolutionary Congress Party  
యూత్ సొసైటీ రెవల్యూషనరీ కాంగ్రెస్ పార్టీ  
D) Yuva Sena Raitu mitra Congress Party  
యువ సేన రైతు మిత్ర కాంగ్రెస్ పార్టీ

48. In how many languages that the value of a Currency printed on Indian Paper Currency?

భారతదేశ కాగితపు కరెన్సీ మీద సంబంధిత కరెన్సీ విలువను ఎన్ని భాషలలో ముద్రిస్తారు?

- A) 12 B) 15  
C) 10 D) 14

49. Ashoka Dharma Chakram  
అశోక ధర్మ చక్రము

- A)  B)   
C)  D) 

50. Not a Telugu Consonant  
తెలుగు భాషలో హల్లు కానిది

- A) ష B) ళ  
C) క్ష D) జ

\*Sponsored by\*  
Sri Sai Communications  
and Idea Distributors  
K.G.Road, P.Dornala  
(Prop: Vechha Satyanarayana)



By  
T.S.O.

Prepared by :

NAGA MURTHY- 9441786635  
Contact at : [nagamurthysir@gmail.com](mailto:nagamurthysir@gmail.com)  
Visit at : [nagamurthy.weebly.com](http://nagamurthy.weebly.com)