

Sri Swami Vivekananda Talent Test - 2015

Mandal Level (Level -1) Classes 6th and 7th (EM/TM)

Conducted by : T.S.O. (Talent Search Organisation – P.Dornala)

Date: 05-01-2015

Venue: Govt. High School - P.Dornala

ENGLISH GRAMMAR


1. Which is correct?
A) The cat sit on the mat
B) The cat is sit on the mat
C) The cat is on the mat
D) The cat over the mat
2. Vegetables are dear in summer but In winter
A) costly B) expensive
C) cheap D) fresh
3. A Cobbler needs




B)



C)



D)



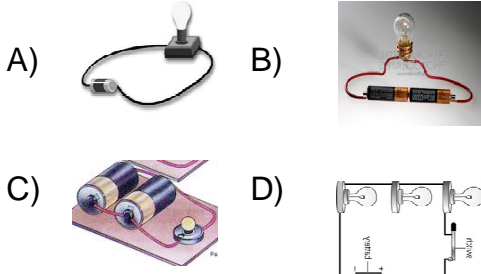
4. Which gender is the word "Cousin"?
A) Masculine B) Feminine
C) Neuter D) Common
5. I am going Shopping.
A) for B) to
C) at D) in
6. If you, I will give you.
A) can come B) could come
C) will come D) come
7. I like to visit Ooty summer.
A) at B) in
C) on D) during

8. I have SBI credit card.
A) a B) an
C) the D) None
9. Mr. Ram has three orphans
A) adapted B) adopted
C) taken D) grown
10. He dances
A) superb B) excellent
C) well D) good

GENERAL SCIENCE

11. This is not a burning gas.
This is not helps in burning.
ఇది మండదు మరియు
మండడానికి తోడ్పడదు.
A) Hydrogen హైడ్రోజన్
B) Nitrogen నైట్రోజన్
C) Oxygen ఆక్సిజన్
D) Carbon di oxide కార్బన్ డై ఆక్సైడ్
12. Not a heterotroph
పర పోషకము కానిది
A) Crow కాకి
B) Buffalo బర్రె
C) Tree చెట్టు
D) Fish చేప
13. Vaccine used to prevent TB
క్షయ నివారణకు ఉపయోగించే వ్యాక్సిన్
A) MMR B) BCG
C) DPT D) Elovac-B

14. In which condition, the bulb glows with high intensity?
క్రింది వానిలో ఏ సందర్భంలో బల్బు అధిక తీవ్రతతో వెలుగును



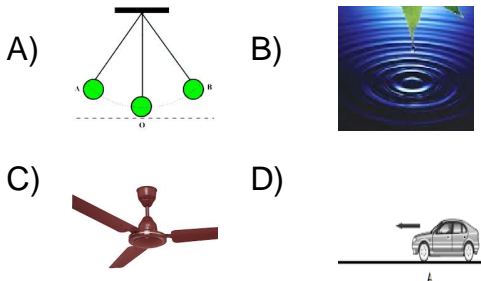
15. Rumination is not done by
నెమరువేయుట చేయనిది

- A) Cow అవు
B) Buffalo బర్రె
C) Camel ఒంటె
D) Goat మేక

16. 1 Km = Mm.
1 కి.మీ. = మి.మీ.

- A) 1000 B) 10000
C) 100000 D) 1000000


17. Rotatory Motion
భ్రమణ చలనము



18. This search for food at night
ఇవి రాత్రి పూట ఆహారం కోసం తిరుగుతాయి.

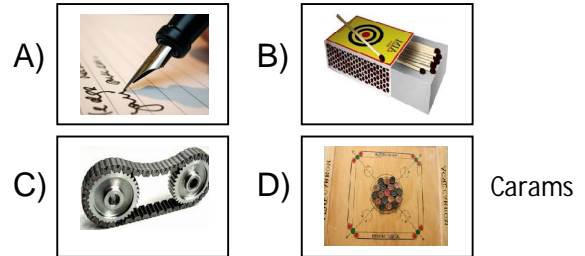
- A) ant చీమ
B) cockroach బొద్దింక
C) lion సింహం
D) cat పిల్లి

19. Identify the part in the given figure
ఇవ్వబడిన పటంలో గుర్తించబడిన భాగము



- A) leaf base పత్ర పీఠము
B) veins ఈనెలు
C) mid rib మధ్య ఈనె
D) petiole వృంతం

20. Friction is not useful to which work
given below.
దిగువ తెలిపిన ఏ సందర్భాలలో ఘర్షణ ఉపయోగపడదు.



SOCIAL STUDIES

21. The number of coastal districts in Samaikhya Andhra was 9. But now how many districts are in coastal line of Andhra Pradesh.

సమైక్య ఆంధ్రప్రదేశ్ నందు కోస్తా తీరంలో గల జిల్లాలు 9. అయితే ప్రస్తుతం ఆంధ్రప్రదేశ్ నందు కోస్తా తీరంలో గల జిల్లాలు ఎన్ని?

- A) 14 B) 4
C) 9 D) 6

22.



పటములో సూచించిన భాగాలలో తప్పుగా ఉన్నవి

Number of wrong parts in the map.

- A) 0 B) 1
C) 2 D) 3

23. Kutcha Road కచ్చా రోడ్ సంతకము

- A) _____ B) -----
B) ++++++ D)

24. International women's day
అంతర్జాతీయ మహిళా దినోత్సవము

- A) October-11 ఆక్టోబర్-11
B) June-6 జూన్-6
C) September-16 సెప్టెంబర్-16
D) March-8 మార్చి-8

25. President who likes children
చిన్న పిల్లలకు ఇష్టమైన రాష్ట్రపతి

- A) B)
C) D)

26. Borra caves are in district.
బొర్రా గుహలు జిల్లాలో కలవు.

- A) Kurnool కర్నూలు
B) Krishna కృష్ణా
C) Vizianagaram విజయనగరం
D) Viskha విశాఖ

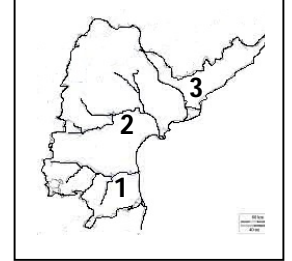
27. Mandal Educational Officer of
P.Dornala
పెద్దదోర్నాల మండల విద్యాశాఖాధికారి

- A) B)
C) D)

28. If the time in London is 6.40 PM.
Then what is the time in Bharath?
లండన్ లో సమయము 6.40 PM అయితే
అప్పుడు భారత్ లో సమయము ఎంత?

- A) 6.40 AM B) 12.10 AM
C) 12.10 PM D) 12.40 AM

29. The rivers Krishna,
Penna and Godavri
Are indicated by
..... respectively
In Andhra Pradesh
ఆంధ్రప్రదేశ్ నందు కృష్ణా,
పెన్నా మరియు గోదావరి
నదులను వరుసగా సూచించే సంఖ్యలు



- A) 1,2,3 B) 2,3,1
C) 2,1,3 D) 3,1,2

30. This is the supreme court of India
భారతదేశ సుప్రీం కోర్టును సూచించేది

- A) B)
C) D)

LIFE HISTORY OF VIVEKANANDA

31. Beluru Math is in state.
బేలూరు మఠము రాష్ట్రములో కలదు.

- A) Tamilnadu తమిళనాడు
B) Westbengal పశ్చిమ బెంగా
C) AndhraPradesh ఆంధ్రప్రదేశ్
D) Uttar Pradesh ఉత్తర ప్రదేశ్

32. Father of Vivekananda
వివేకానందుని తండ్రి

- A) Viswas dath విశ్వాస్ దత్త
B) Kasinath dath కాశీనాథ్ దత్త
C) Veereswar వీరేశ్వర్
D) Viswanath dath విశ్వనాథ్ దత్త

33. Life period of Vivekananda is ...

వివేకానందుని జీవిత కాలము

- A) 41 years B) 39 years
C) 38 years D) 40 years

34. Who helped Swami Vivekananda to go to America (money)

అమెరికాకు వెళ్ళడానికి స్వామి వివేకానందకు ఆర్థిక సహాయము చేసినది

- A) Ramathirtha swami రామతీర్థ స్వామి
B) Pavahari baba పవహారి బాబా
C) Khetri Maharaj ఖేత్రి మహారాజ్
D) Rama Krishna రామకృష్ణ

35. Rama Krishna Math was established in Beluru.

బేలూరు నందు రామకృష్ణ మఠమును స్థాపించిన రోజు

- A) 12-01-1897 B) 01-05-1897
C) 02-10-1897 D) 04-07-1902

36. Who established Rama Krishna Math

రామకృష్ణ మఠమును స్థాపించినది

- A) Vivekananda స్వామి వివేకానంద
B) Parama Hamsa పరమహంస
C) Viswanath Dath విశ్వనాథ్ దత్త
D) Mahatma Gandhi మహాత్మ గాంధీ

38. Not the quote of Vivekananda

వివేకానందుని సూక్తి కానిది.

A) Strength is life. Weakness is death.

బలమే జీవితం. బలహీనతే మరణం.

B) Arise, Awake and stop not till the goal is reached

లే, మేలుకో; గమ్యం చేరే వరకు ఆగకు.

C) Do good. Be good and See good.

మంచి చెయ్యి.మంచిగా ఉండు.మంచి చూడు

D) Your aim is yours. So don't change it for others.

నీ లక్ష్యం నీదే. మరొకరి కోసం మార్పుకోకు.





37. Pet name of swami at childhood

చిన్నతనములో వివేకానందుని ముద్దు పేరు

- A) Chinnu చిన్ను
B) Bile బిలే
C) Azad ఆజాద్
D) Veeru వీరు

39. Mother of Vivekananda

వివేకానందుని తల్లి

- A)  B) 
C)  D) 

40. Swami Vivekananda

స్వామి వివేకానంద

- A)  B) 
C)  D) 

GENERAL INTELLIGENCE

41. 49


- A) XXXXVIII B) XLIX
C) XLVIII D) XXXIX

42. The pledge "Bharatha Desamu naa matrubhoomi .." was written by

'భారతదేశము నా మాతృభూమి...' అనే ప్రతిజ్ఞను రచించినది.

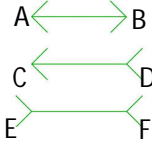
- A)  B) 
C)  D) 

43. How many animals are in this figure
ఈ చిత్రంలో ఎన్ని జంతువులు ఉన్నాయి?

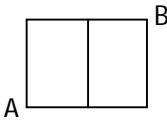


- A) 4
C) 6
B) 5
D) 8

44. Which line segment is big?
ఏ రేఖాఖండం పెద్దది?



- A) \overline{AB}
C) \overline{EF}
B) \overline{CD}
D) None


45. 

In the figure above, a path from point A to point B is determined along grid lines. How many paths can be drawn?

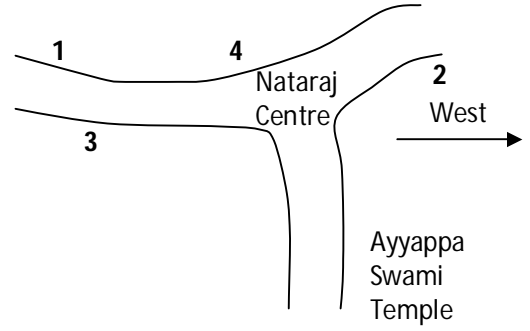
పైన ఇవ్వబడిన పటములో A నుండి B కి గీతల వెంబడి ప్రయాణిస్తూ ఎన్ని దారులు గీయవచ్చు?

- A) 3
C) 4
B) 5
D) 6

46. Andhra Pradesh state symbol
ఆంధ్రప్రదేశ్ రాష్ట్ర చిహ్నము



47.



Police Station in P.Dornala is located at the place of

పెద్ద దోర్నాలలో పోలీస్ స్టేషన్ ను సూచించే ప్రాంతం నందు గల నెంబరు.

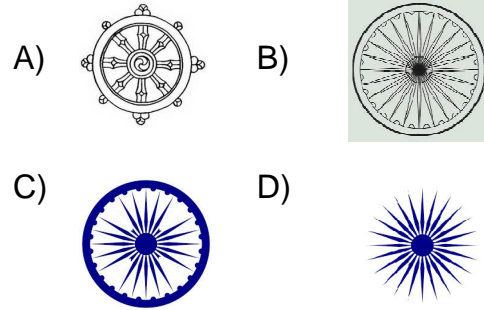
- A) 1
C) 3
B) 2
D) 4

48. The animals on the 10 rupee paper currency of India.

భారతదేశ కాగితపు కరెన్సీ పది రూపాయలు పై ఉండే జంతువులు

- A) 3
C) 5
B) 4
D) 6

49. Ashoka Dharma Chakram
అశోక ధర్మ చక్రము



50. Exclamation mark

ఆశ్చర్యార్థకము

- A) @
C) “ ”
B) ~
D) !

Sponsored by
Sri Sai Communications
and Idea Distributors
K.G.Road, P.Dornala
(Prop: Vechha Satyanarayana)



Happy New Year
2015



By
T.S.O.

Prepared by :

NAGA MURTHY- 9441786635
Contact at : nagamurthysir@gmail.com
Visit at : nagamurthy.weebly.com