

# IMPORTANT PROBLEMS IN PHYSICS FOR SSC MARCH - 2016

1. 20°C ఉష్ణోగ్రత గల 50 గ్రాముల నీటిని, 40°C

ఉష్ణోగ్రత గల 50 గ్రాముల నీటికి కలిపితే మిశ్రమము ఫలిత ఉష్ణోగ్రత ఎంత ఉంటుంది?

A. ద్రవ్యరాశి ( $m_1$ ) = 50 gm ఉష్ణోగ్రత ( $T_1$ ) = 20°C  
 ద్రవ్యరాశి ( $m_2$ ) = 50 gm ఉష్ణోగ్రత ( $T_2$ ) = 40°C  
 మిశ్రమం యొక్క ఫలిత ఉష్ణోగ్రత =  $(T) = \frac{m_1 T_1 + m_2 T_2}{m_1 + m_2}$   
 $= \frac{50 \times 20 + 50 \times 40}{50 + 50} = \frac{1000 + 2000}{100} = \frac{3000}{100} = 30^\circ\text{C}$

2. సమాధానాలు వ్రాయండి.

- a) 100°C వద్ద గల 1gm నీటి ఆవిరి 100°C గల నీరుగా సాంద్రీకరణం చెందడానికి ఎంత ఉష్ణం బదిలీ కావాలి?  
 b) 100°C వద్ద గల 1gm నీరు 0°C గల నీరుగా సాంద్రీకరణం చెందడానికి ఎంత ఉష్ణం బదిలీ కావాలి?  
 c) 0°C వద్ద గల 1gm నీరు 0°C వద్ద గల మంచుగా మారడానికి ఎంత ఉష్ణం గ్రహించబడాలి? లేదా విడుదలవ్వాలి?  
 d) 100°C వద్ద గల 1gm నీటి ఆవిరి 0°C వద్ద గల మంచుగా మారడానికి ఎంత ఉష్ణం గ్రహించబడాలి? లేదా విడుదలవ్వాలి?

A. a) 100°C వద్ద గల 1gm నీటి ఆవిరి 100°C గల నీరుగా సాంద్రీకరణం చెందింది.  
 బదిలీ అయిన ఉష్ణం ( $Q_1$ ) = mL  
 $= 1 \times 540 = 540 \text{ cal}$   
 నీటి భాష్పీభవన గుణకoefficient (L) = 540 cal/gm.

b) 100°C వద్ద గల 1gm నీరు 0°C గల నీరుగా సాంద్రీకరణం చెందింది.  
 బదిలీ అయిన ఉష్ణం ( $Q_2$ ) = m.s.ΔT  
 $= 1 \times 1 \times 100 = 100 \text{ cal}$

c) 0°C వద్ద గల 1gm నీరు 0°C వద్ద గల మంచుగా మారింది.  
 బదిలీ అయిన ఉష్ణం ( $Q_3$ ) = mL  
 $= 1 \times 80 = 80 \text{ cal}$

మంచు ద్రవీభవన గుణకoefficient (L) = 80 cal/gm.

d) 100°C వద్ద గల 1gm నీటి ఆవిరి 0°C వద్ద గల మంచుగా మారింది.  
 బదిలీ అయిన ఉష్ణం (Q) =  $Q_1 + Q_2 + Q_3$   
 $= 540 + 100 + 80 = 720 \text{ cal}$

3. 20°C ను కెల్విన్ మానములోనికి మార్చండి.

A. t°C = (t + 273)K  
 20°C = (20 + 273)K = 293K

4. 8 సెం.మీ. వక్రతా వ్యాసార్థం గల పుటాకార దర్పణం యొక్క ప్రధానాక్షంపై దర్పణం నుండి 10 సెం.మీ. దూరంలో ఒక వస్తువును ఉంచితే ప్రతిబింబం ఎంత దూరంలో ఏర్పడుతుంది?

A. వస్తువు దూరం (u) = -10cm  
 వక్రతా వ్యాసార్థం (R) = -8cm  
 నాభ్యాంతరం (f) =  $\frac{R}{2} = -\frac{8}{2} = -4\text{cm}$   
 ప్రతిబింబ దూరం (v) = ?  
 సూత్రము :  $\frac{1}{u} + \frac{1}{v} = \frac{1}{f}$   
 $\frac{1}{v} = \frac{1}{f} - \frac{1}{u} = \frac{1}{-4} - \frac{1}{-10} = \frac{-10+4}{40} = \frac{-3}{40}$   
 $v = \frac{-20}{3} = -6.6 \text{ cm}$  (వస్తువు ఉన్న వైపు)

5. 3మీ. వక్రతా వ్యాసార్థం గల కుంభాకార దర్పణాన్ని ఒక వాహనానికి రియర్ వ్యూ మిర్రర్ గా ఉపయోగించారు. ఈ దర్పణానికి 5మీ. దూరంలో ఒక బస్ ఉంటే, అప్పుడు ఏర్పడే ప్రతిబింబ స్థానాన్ని, పరిమాణాన్ని లెక్కించండి. అది నిటారు ప్రతిబింబమా? లేదా తలక్రిందులు ప్రతిబింబమా?

A. (కుంభాకార దర్పణానికి వస్తు దూరం 'u' ఋణాత్మకం)  
 వస్తు దూరం (u) = -5m  
 వక్రతా వ్యాసార్థం (R) = 3m  
 నాభ్యాంతరం (f) =  $\frac{R}{2} = \frac{3}{2} = 1.5\text{m}$   
 ప్రతిబింబ దూరం (v) = ?  
 సూత్రము :  $\frac{1}{u} + \frac{1}{v} = \frac{1}{f}$   
 $\frac{1}{v} = \frac{1}{f} - \frac{1}{u} = \frac{1}{1.5} - \frac{1}{-5} = \frac{2}{3} + \frac{1}{5} = \frac{10+3}{15} = \frac{13}{15}$   
 $v = \frac{15}{13} = 1.15 \text{ m}$

ప్రతిబింబం దర్పణం వెనుక వైపు ఏర్పడుతుంది.  
 ప్రతిబింబం నిటారుదైన, చిన్నదైన, మిథ్యా ప్రతిబింబం.

6. 15 సెం.మీ. నాభ్యాంతరం గల కుంభాకార దర్పణం ముందు 10 సెం.మీ. దూరంలో వస్తువును ఉంచాం. ప్రతిబింబ స్థానం, ప్రతిబింబ లక్షణాలను తెల్పండి. .

A. (కుంభాకార దర్పణానికి వస్తు దూరం 'u' ఋణాత్మకం)  
 వస్తు దూరం (u) = -10cm      నాభ్యాంతరం (f) = 15cm  
 వక్రతా వ్యాసార్థం (R) = 2f = 30cm  
 ప్రతిబింబ దూరం (v) = ?  
 సూత్రము :  $\frac{1}{u} + \frac{1}{v} = \frac{1}{f}$   
 $\frac{1}{v} = \frac{1}{f} - \frac{1}{u} = \frac{1}{15} - \frac{1}{-10} = \frac{10+15}{150} = \frac{25}{150}$   
 $v = \frac{150}{25} = 6\text{cm}$   
 ప్రతిబింబం దర్పణం వెనుక వైపు ఏర్పడుతుంది.  
 ప్రతిబింబం నిటారుదైన, చిన్నదైన, మిథ్యా ప్రతిబింబం

7. శూన్యంలో కాంతి వేగం 3,00,000 కి.మీ./సె., వజ్రంలో కాంతి వేగం 1,24,000 కి.మీ./సె., అయిన వజ్రం వక్రీభవన గుణకాన్ని కనుగొనండి.

A. శూన్యంలో కాంతి వేగం ( $v_1$ ) = 300000km/s  
 వజ్రంలో కాంతి వేగం ( $v_2$ ) = 124000km/s  
 వజ్రం యొక్క వక్రీభవన గుణకం ( $n$ ) =  $\frac{v_1}{v_2}$   
 =  $\frac{300000}{124000} = 2.42$

8. నీటి పరంగా గాజు వక్రీభవన గుణకం 9/8. గాజు పరంగా నీటి వక్రీభవన గుణకం ఎంత?

A. నీటి పరంగా గాజు వక్రీభవన గుణకం  $n_{gw} = \frac{n_g}{n_w} = \frac{9}{8}$   
 గాజు పరంగా నీటి వక్రీభవన గుణకం  $n_{wg} = \frac{n_w}{n_g} = \frac{8}{9}$

9. నీటి పరమ వక్రీభవన గుణకం 4/3. అయిన నీటి సందిగ్ధ కోణం ఎంత?

A. నీటి పరమ వక్రీభవన గుణకం ( $n$ ) =  $\frac{4}{3}$   
 నీటి సందిగ్ధ కోణం ( $C$ ) = ?  
 $\sin C = \frac{1}{n}$   
 $\sin C = \frac{3}{4} = 0.75 = \sin 48^\circ 36'$   
 $\rightarrow C = 48^\circ 36'$

10. బెంజీన్ యొక్క సందిగ్ధ కోణం  $42^\circ$ . అయిన బెంజీను వక్రీభవన గుణకం ఎంత?

A. బెంజీను వక్రీభవన గుణకం ( $n$ ) = ?  
 సందిగ్ధ కోణం ( $C$ ) =  $42^\circ$   
 $\sin C = \frac{1}{n}$   
 $n = \frac{1}{\sin C} = \frac{1}{\sin 42} = \frac{1}{0.6691} = 1.4945$

11. గాలి- ఒక ద్రవం చేరు చేయబడే తలం వద్ద కాంతి కిరణం  $45^\circ$  ల కోణంతో పతనమై  $30^\circ$  ల కోణంతో వక్రీభవనం చెందినది. ఆ ద్రవం వక్రీభవన గుణకం ఎంత?

A. సందిగ్ధం (i) : పతన కోణం (i) =  $45^\circ$   
 వక్రీభవన కోణం (r) =  $30^\circ$   
 వక్రీభవన గుణకం ( $n$ ) =  $\frac{\sin i}{\sin r} = \frac{\sin 45}{\sin 30} = \frac{\frac{1}{\sqrt{2}}}{\frac{1}{2}}$   
 =  $\frac{2}{\sqrt{2}} = \sqrt{2} = 1.414$

12. 20 సెం.మీ. నాభ్యంతరం గల కేంద్రీకరణ కటకం ముందు 60 సెం.మీ. దూరంలో వస్తువు ఉంది. ప్రతిబింబం ఎక్కడ ఏర్పడుతుంది. దాని లక్షణాలు ఏమిటి?

A. కేంద్రీకరణ కటకం అనగా కుంభాకార కటకం.  
 కుంభాకార కటకానికి 'u' ఋణాత్మకం.  
 నాభ్యంతరం (f) = 20cm  
 వస్తువు దూరం (u) = -60cm

ప్రతిబింబ దూరం (v) = ?

$$\text{కటక సూత్రం : } \frac{1}{f} = \frac{1}{v} - \frac{1}{u}$$

$$\rightarrow \frac{1}{v} = \frac{1}{f} + \frac{1}{u} = \frac{1}{20} + \frac{1}{-60} = \frac{1}{20} - \frac{1}{60} = \frac{60-20}{20 \times 60} = \frac{40}{1200}$$

$$\rightarrow \frac{1}{v} = \frac{1}{30} \rightarrow v = 30\text{cm}$$

ఇక్కడ వస్తువు Cకి ఆవల ఉంచబడినది. కనుక ప్రతిబింబం F మరియు Cల మధ్య ఉంచబడినది. ప్రతిబింబం చిన్నదైన, తలక్రిందులైన, నిజ ప్రతిబింబం.

13. ఒక ద్వికుంభాకార కటకపు రెండు వక్రతలాల వక్రతా

వ్యాసార్థాలు సమానం (R). కటక నాభ్యంతరం దాని వక్రతా వ్యాసార్థానికి సమానం. అయితే వక్రీభవన గుణకం కనుగొనండి.

A. ద్వికుంభాకార కటకానికి  $R_1 = R_2 = R$   
 నాభ్యంతరం (f) = R

$$\text{కటక తయారీ సూత్రం: } \frac{1}{f} = (n-1)\left(\frac{1}{R_1} - \frac{1}{R_2}\right)$$

ద్వికుంభాకార కటకానికి  $R_1$  ధనాత్మకం,  $R_2$  ఋణాత్మకం

$$\rightarrow \frac{1}{f} = (n-1)\left(\frac{1}{R_1} + \frac{1}{R_2}\right)$$

$$\rightarrow \frac{1}{R} = (n-1)\left(\frac{1}{R} + \frac{1}{R}\right)$$

$$\rightarrow \frac{1}{R} = (n-1)\left(\frac{2}{R}\right)$$

$$\rightarrow 1 = 2n - 2 \rightarrow 2n = 3 \rightarrow n = \frac{3}{2} = 1.5$$

కటక వక్రీభవన గుణకం ( $n$ ) = 1.5

14. వక్రీభవన గుణకం  $n=1.5$  గల గాజుతో ఒక కుంభాకార పుటాకార కేంద్రీకరణ కటకం తయారు చేయబడినది. దాని నాభ్యంతరం 24 సెం.మీ., దాని వక్రతా వ్యాసార్థం మరొక వక్రతా వ్యాసార్థానికి రెట్టింపైన ఆ రెండు వక్రతా వ్యాసార్థాల సు కనుగొనండి.

A. కుంభాకార పుటాకార కటకం యొక్క వక్రతా వ్యాసార్థాలు  $R_1$  మరియు  $R_2$

$$\text{లెక్క ప్రకారం } R_2 = 2R_1$$

$$\text{కటక నాభ్యంతరం (f) = 24cm}$$

కటక వక్రీభవన గుణకం ( $n$ ) = 1.5

$$\text{కటక తయారీ సూత్రం: } \frac{1}{f} = (n-1)\left(\frac{1}{R_1} - \frac{1}{R_2}\right)$$

కుంభాకార పుటాకార కటకానికి  $R_1, R_2$  లు ధనాత్మకం

$$\rightarrow \frac{1}{f} = (n-1)\left(\frac{1}{R_1} - \frac{1}{R_2}\right)$$

$$\rightarrow \frac{1}{24} = (1.5-1)\left(\frac{1}{R_1} - \frac{1}{2R_1}\right)$$

$$\rightarrow \frac{1}{24} = (0.5)\left(\frac{2-1}{2R_1}\right)$$

$$\rightarrow 2R_1 = 12 \rightarrow R_1 = 6\text{cm}$$

$$R_2 = 2R_1 = 12\text{cm}$$

వక్రతా వ్యాసార్థాలు  $R_1=6\text{cm}, R_2=12\text{cm}$

15. డాక్టర్ రామును 2D కటకం వాడమని సూచించారు.

ఆ కటక నాభ్యంతరం ఎంత?

A. కటక సామర్థ్యం (P) = 2D

$$\text{సూత్రం : } P = \frac{100}{f \text{ (in cms)}}$$

$$f = \frac{100}{P} = \frac{100}{2} = 50 \text{ cm}$$

కటక నాభ్యంతరం = 50 cm.

16. 100W, 220V మరియు 60W, 220V గల రెండు

బల్బులు ఉన్నవి. దేని నిరోధం ఎక్కువ?

A. విద్యుత్ సామర్థ్యం:  $P = \frac{V^2}{R} \rightarrow R = \frac{V^2}{P}$

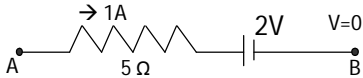
Case(i) మొదటి బల్బుకు  $P = 100 \text{ W},$   
 $V = 220 \text{ V}$   
 $R = \frac{V^2}{P}$   
 $= \frac{220 \times 220}{100}$   
 $= 484 \Omega$

Case(ii) రెండవ బల్బుకు  $P = 60 \text{ W}$   
 $V = 220 \text{ V}$   
 $R = \frac{V^2}{P}$   
 $= \frac{220 \times 220}{60}$   
 $= 806.66 \Omega$

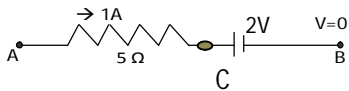
రెండవ బల్బుకు నిరోధం అధికంగా ఉండును.

17. ఇవ్వబడిన పటంలో B వద్ద పొటెన్షియల్ శూన్యమైన A

వద్ద పొటెన్షియల్ .....



A. A & B ల మధ్య పొటెన్షియల్ భేదం విభజింపబడుతుంది.



$$V_{BA} = V_{BC} + V_{CA}$$

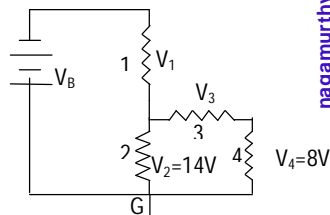
$$V_A - V_B = +2 + (1 \times 5)$$

$$V_A - 0 = 2 + 5$$

$$V_A = 7 \text{ V}$$

18. ఇవ్వబడిన వలయాన్ని పరిశీలించండి.

దిగువ ప్రశ్నలకు సమాధానాలు వ్రాయండి.



i) 3, 4 నిరోధాలు శ్రేణిలో ఉన్నాయా?

ii) 1, 2 నిరోధాలు శ్రేణిలో ఉన్నాయా?

iii) ఏదైనా నిరోధంతో బ్యాటరీ శ్రేణి సంధానంలో ఉందా?

iv) నిరోధం 3 పై పొటెన్షియల్ భేదం ఎంత?

v) నిరోధం 1 పై పొటెన్షియల్ భేదం 6V అయితే

వలయంలో ఫలిత emf ఎంత?

A. (i) 3, 4 నిరోధాలు శ్రేణిలో ఉన్నాయి.

(ii) 1, 2 నిరోధాలు శ్రేణిలో ఉన్నాయి.

(iii) అవును

(iv) నిరోధం 2 అనేది 3, 4 నిరోధాలతో సమాంతరంగా ఉంది

$$V_2 = V_3 + V_4 \rightarrow 14 = V_3 + 8 \rightarrow V_3 = 6 \text{ V}$$

(v)  $V_1 = 6 \text{ V}$

బ్యాటరీ 1 మరియు 2 నిరోధాలతో శ్రేణిలో ఉంది. కనుక

$$V_B = V_1 + V_2 = 6 + 14 = 20 \text{ V}$$

19. మీ శరీర నిరోధం 100000Ω. అయిన 12V బ్యాటరీని

ముట్టుకున్నప్పుడు మీ శరీరం గుండా ప్రవహించే విద్యుత్

ప్రవాహం ఎంత?

A. నిరోధం (R) = 100000 Ω

బ్యాటరీ యొక్క పొటెన్షియల్ (V) = 12 V

ఓమ్ నియమం:  $V = IR$

$$I = \frac{V}{R} = \frac{12}{100000} = 12 \times 10^{-5} \text{ A}$$

శరీరం గుండా విద్యుత్ ప్రవాహం  $12 \times 10^{-5} \text{ Ampere}$

20. ఒక ఇంటిలో 3 బల్బులు, 2 ఫ్యాన్లు, ఒక టీ.వి. ఉన్నాయి.

ప్రతి బల్బు 40W ల విద్యుత్ ను వినియోగిస్తుంది. ఫ్యాన్

80W, టీవి 60W విద్యుత్ ను ఉపయోగిస్తున్నాయి. సుమారు

ప్రతి బల్బును 5 గంటలు, ప్రతి ఫ్యాన్ ను 12 గంటలు,

టీవిని 5 గంటల చొప్పున ప్రతిరోజూ వినియోగిస్తున్నారు.

ఒక యూనిట్ KWH కు 3 రూ. చుప్పున విద్యుత్ ఛార్జి

చేస్తే 30 రోజులలో చెల్లించాల్సిన సొమ్ము ఎంత?

A. రోజుకు వినియోగించే విద్యుత్ శక్తి =

వాట్స్ X పరికరాల సంఖ్య X రోజుకు వాడే గంటలు

పరికరం	వాట్స్	రోజుకు సంఖ్య	గంటలు	వినియోగించే విద్యుత్ శక్తి KWH
బల్బు	40	3	5	$\frac{40 \times 3 \times 5}{1000} = 0.6$
ఫ్యాన్	80	2	12	$\frac{80 \times 2 \times 12}{1000} = 1.92$
టీవి	60	1	5	$\frac{60 \times 1 \times 5}{1000} = 0.3$

రోజుకు వినియోగించే విద్యుత్ శక్తి = 0.6 + 1.92 + 0.3

$$= 2.82 \text{ KWH}$$

30 రోజుల్లో వినియోగించే విద్యుత్ శక్తి = 30 X 2.82

$$= 84.6 \text{ KWH}$$

1 KWH విద్యుత్ ఛార్జి = Rs. 3-00

30 రోజులలో చెల్లించాల్సిన సొమ్ము = 84.6 X 3.00 = Rs. 253.80

21. ఒక వలయంలో 12 V ల బ్యాటరీ వల్ల 2 A విద్యుత్ ప్రవహిస్తుంది. అయితే వలయంలో నిరోధంను లెక్కించండి.

A. విద్యుత్ ప్రవాహం (I) = 2 A

బ్యాటరీ పోటెన్షియల్ (V) = 12 V

ఓమ్ నియమం:  $V = IR$

$$R = \frac{V}{I} = \frac{12}{2} = 6 \Omega$$

నిరోధం (R) = 6 Ω

22. 2 Ω, 4 Ω, 6 Ω నిరోధాలను శ్రేణి పద్ధతిలో కలిపినారు.

వలయంలో ఫలిత నిరోధం ఎంత?

A.  $R_1 = 2 \Omega, R_2 = 4 \Omega, R_3 = 6 \Omega$

శ్రేణి సంధానంలో ఫలిత నిరోధం R అనుకొనుము.

$$R = R_1 + R_2 + R_3 = 2 + 4 + 6 = 12 \Omega$$

23. 2 Ω, 4 Ω, 6 Ω నిరోధాలను సమాంతర పద్ధతిలో

కలిపినారు. వలయంలో ఫలిత నిరోధం ఎంత?

A.  $R_1 = 2 \Omega, R_2 = 4 \Omega, R_3 = 6 \Omega$

సమాంతర సంధానంలో ఫలిత నిరోధం R అనుకొనుము.

$$\frac{1}{R} = \frac{1}{R_1} + \frac{1}{R_2} + \frac{1}{R_3}$$

$$\frac{1}{R} = \frac{1}{2} + \frac{1}{4} + \frac{1}{6}$$

$$\frac{1}{R} = \frac{6+3+2}{12}$$

$$\frac{1}{R} = \frac{11}{12}$$

$$R = \frac{12}{11} = 1.09 \Omega$$

24. సమ అయస్కాంత క్షేత్రంలో అయస్కాంత ప్రేరణ

విలువ 2T. క్షేత్రానికి లంబంగా ఉన్న  $1.5m^2$

వైశాల్యం గుండా ప్రవహించే అభివాహం ఎంత?

A. అయస్కాంత ప్రేరణ  $B = 2T$

$$\text{వైశాల్యం } A = 1.5 m^2$$

అయస్కాంత అభివాహం  $\Phi = ?$

$$\text{సూత్రం: } B = \frac{\Phi}{A} \rightarrow \Phi = BA = 2 \times 1.5 = 3 \text{ Weber}$$

25. అయస్కాంత క్షేత్రానికి లంబంగా ఉన్న 20 సెం.మీ.,

పొడవు గల దీర్ఘచతురస్రాకార విద్యుత్ వాహకంపై 8

న్యూటన్ల బలం పని చేస్తుంది. వాహకంలో 40 ఆంపియర్ల

విద్యుత్ ప్రవహిస్తుంది. అప్పుడు ఏర్పడే అయస్కాంత

ప్రేరితాన్ని లెక్కించండి.

A. వాహకం పై బలం (F) = 8N

$$\text{వాహకం పొడవు } (l) = 20cm = 20 \times 10^{-2} m$$

వాహకంలో విద్యుత్ ప్రవాహం (i) = 40 A

అయస్కాంత ప్రేరణ (B) = ?

$$\text{సూత్రం: } F = B i l$$

$$B = \frac{F}{i l} = \frac{8}{40 \times 20 \times 10^{-2}} = \frac{8 \times 10^2}{800} = \frac{800}{800} = 1 \text{ Tesla}$$

NAGA MURTHY-9441786635  
Contact at : [nagamurthysir@gmail.com](mailto:nagamurthysir@gmail.com)  
Visit at : [nagamurthy.weebly.com](http://nagamurthy.weebly.com)