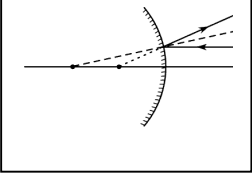
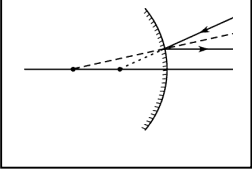
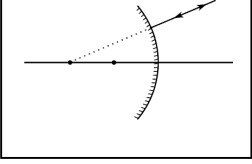
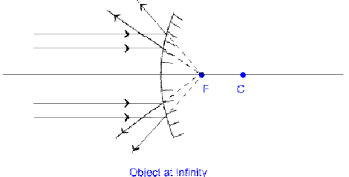
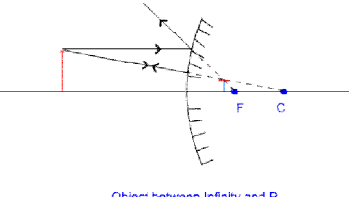


## అధ్యాయం - 03 : కాంతి పరావర్తనం

### పీరియడ్ పథకము-09 :

కుంభాకార దర్పణంలో ప్రతిబింబం ఏర్పడే విధానం

వస్తు స్థానం - ప్రతిబింబ స్థానం & మిథ్యా, నిజ ప్రతిబింబాలు

విషయ విశ్లేషణ	తరగతి గది వాతావరణము	బోధనాభ్యసన పరికరములు (charts having the diagrams / Use black board to draw them))
<p><b>ఉపయుక్తమయ్యే కిరణాలు :</b> కుంభాకార దర్పణం వల్ల ఏర్పడే వస్తువు యొక్క ప్రతిబింబాన్ని, దాని స్థానాన్ని అంచనా వేయుటకు ఉపయుక్తమయ్యే కిరణాలు కొన్ని ఉన్నాయి. అవి:</p> <p><b>(i) ప్రధానాక్షానికి సమాంతరంగా పతనం చెందిన కిరణాలు పరావర్తనం చెందిన తర్వాత దర్పణ నాభి గుండా బహిర్గతం అయినట్లు కనిపిస్తాయి.</b></p> <p><b>(ii) దర్పణ నాభి గుండా ప్రయాణిస్తూ పతనం చెందినట్లున్న కాంతి కిరణాలు పరావర్తనం చెందిన తర్వాత ప్రధానాక్షానికి సమాంతరంగా ప్రయాణిస్తాయి.</b></p> <p><b>(iii) వస్తువు యొక్క పైకొన నుండి దర్పణ వక్రతా కేంద్రం ద్వారా ప్రయాణిస్తూ పతనం చెందినట్లు కనిపించే కాంతి కిరణం, పరావర్తనం చెందాక తిరిగి అదే మార్గంలో వెనుకకు మరలుతుంది.</b> <a href="http://nagamurthy.weebly.com">nagamurthy.weebly.com</a></p>	<p><b>చర్చ:</b> కిరణ చిత్రాలు గీయడానికి ఉపయోగపడే కిరణాల గురించి.</p> <p><b>వివరణ:</b> కిరణ చిత్రాలు ఏ విధంగా గీయాలో వివరించును.</p>	<p>(i) </p> <p>(ii) </p> <p>(iii) </p>
<p>కుంభాకార దర్పణం వల్ల పరావర్తనానికి కిరణ చిత్రాలు:</p> <p>వస్తు స్థానం - ప్రతిబింబ స్థానం &amp; మిథ్యా, నిజ ప్రతిబింబాలు</p>	<p><b>చర్చ:</b> కుంభాకార దర్పణం ముందు వస్తువును ఉంచవలసిన స్థానాల గురించి.</p>	
<p>కుంభాకార దర్పణానికి సంబంధించి వస్తువును ఉంచడానికి రెండు ముఖ్యమైన స్థానాలున్నాయి.</p>		
<p><b>(i) అనంత దూరంలో వస్తువు ఉన్నప్పుడు:</b> ప్రతిబింబం దర్పణ నాభి వద్ద, దర్పణానికి వెనుక భాగంలో ఏర్పడుతుంది. నిటారైన, చాలా చిన్నదైన, మిథ్యా ప్రతిబింబం ఏర్పడుతుంది.</p>	<p><b>వివరణ:</b> కుంభాకార దర్పణానికి సంబంధించి కిరణ చిత్రాలు ఎలా గీయాలో వివరించును.</p>	 <p>Object at: infinity</p>
<p><b>(i) అనంత దూరంనకు, దర్పణ ధ్రువానికి మధ్యలో వస్తువు ఉన్నప్పుడు:</b> ప్రతిబింబం దర్పణనాభి మరియు ధ్రువం మధ్యలో, దర్పణానికి వెనుకభాగంలో ఏర్పడుతుంది. నిటారైన, చిన్నదైన, మిథ్యా ప్రతిబింబం ఏర్పడుతుంది</p>		 <p>Object: between Infinity and P</p>